

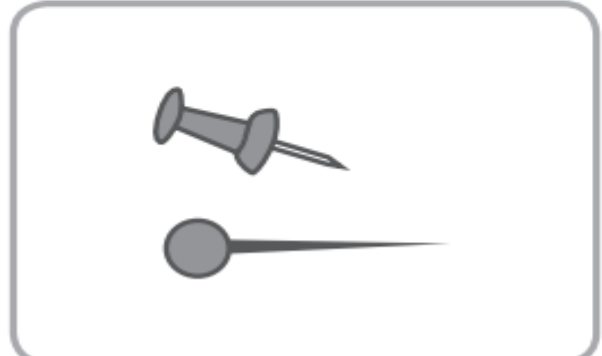
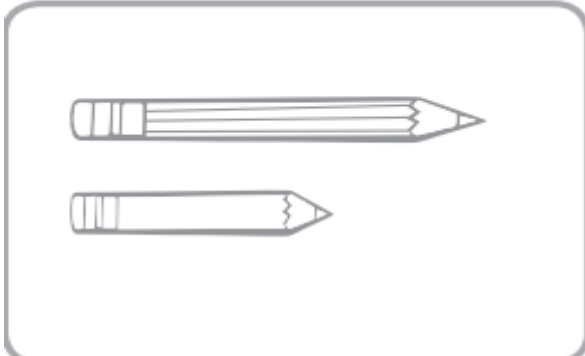
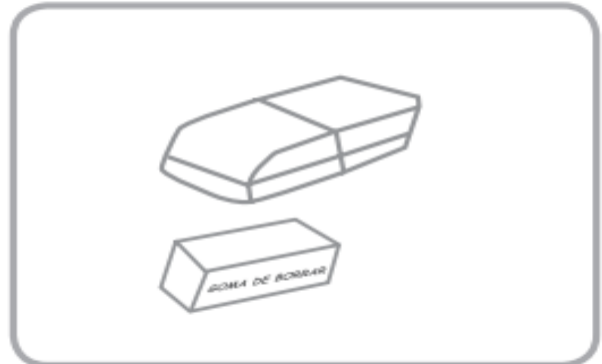
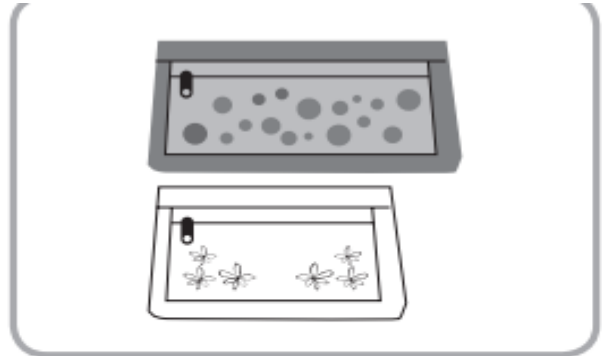
Guía de apoyo de Matemática

Semana 07 al 11 de septiembre

Nombre: _____ Curso: 1° básico.


Objetivo: Identificar y comparar la longitud de objetos a través de lo pictórico para trabajar habilidades matemáticas del uso cotidiano.

I.- Reconoce y encierra de color rojo los objetos largos y de color verde los objetos más cortos.

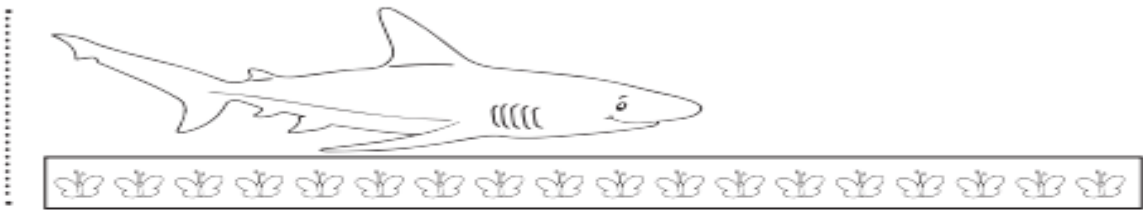


II.- Observa, calcula y responde, en la línea, cuantas mariposas mide cada objeto.


1. El hueso mide _____ mariposas de largo.




2. El tiburón de juguete mide _____ mariposas de largo.



3. El lápiz mide _____ mariposas de largo.



4. La tijera mide _____ mariposas de largo.



III.- Responde y encierra **con un círculo** la respuesta correcta:

1.- ¿Cuál es el objeto más largo?	1	2	3	4
2.- ¿Cuál es el objeto más corto?	1	2	3	4
3.- ¿Cuántas mariposas tiene la tijera?	10	11	12	9
4.- ¿Cuántas mariposas tiene el tiburón?	11	13	10	8
5.- ¿Cuántas mariposas tiene el lápiz?	20	18	15	17